



LIVE&LEARN
For Environment and Community

VÌ BIỂN XANH

ĐỒ VUI CHỦ ĐỀ: RẠN SAN HÔ



The background is a vibrant, cartoon-style illustration. The top half shows a bright, sunny sky with a few birds flying. Below the sky is a calm sea with a small boat in the middle ground and a lighthouse on a small island to the right. The bottom half of the image is an underwater scene. A child wearing a diving mask and snorkel is swimming towards the viewer. Surrounding the child are various sea creatures: a large manatee on the left, a sea turtle on the right, several colorful fish, a seahorse, and a jellyfish. The seabed is covered with diverse coral reefs and sea anemones.

ĐỒ VUI 1: HÃY CHỌN ĐÁP ÁN ĐÚNG

CÂU 1

Có khoảng bao nhiêu % sinh vật biển sống nhờ các rạn san hô

Chỉ 1%

Trên 75 %

Khoảng 25%



CÂU 1 – ĐÁP ÁN

Có khoảng bao nhiêu % sinh vật biển sống nhờ các rạn san hô

Chỉ 1%


Trên 75 %

Khoảng 25%



CÂU 2

Các rạn san hô được hình thành nhiều nhất trong khu vực nào?



Khu vực biển nhiệt đới

Khu vực biển ôn đới

Cả hai khu vực trên

CÂU 2 – ĐÁP ÁN

Các rạn san hô được hình thành nhiều nhất trong khu vực nào?

Khu vực biển nhiệt đới

Khu vực biển ôn đới

Cả hai khu vực trên



CÂU 3

San hô là tập hợp của hàng nghìn, hàng triệu cá thể nhỏ bé giống hệt nhau, những cá thể nhỏ bé này được gọi là gì?

Polyp san hô

San hô con

San hô mẹ

San hô bố



CÂU 3 – ĐÁP ÁN

San hô là tập hợp của hàng nghìn, hàng triệu cá thể nhỏ bé giống hệt nhau, những cá thể nhỏ bé này được gọi là gì?

Polyp san hô

San hô con


San hô mẹ

San hô bố



CÂU 4

Nguồn thức ăn chính cho san hô đến từ đâu?



Vi tảo

San hô khác

Sinh vật phù du

Sao biển

CÂU 4 – ĐÁP ÁN

Nguồn thức ăn chính cho san hô đến từ đâu?

Vi tảo

San hô khác

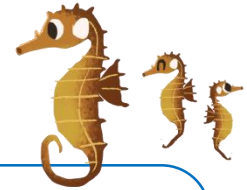
Sinh vật phù du

Sao biển



CÂU 5

Sinh vật nào ăn san hô



Cá ngựa

Sao biển gai

Cá sù mì

Cá mập

CÂU 5 – ĐÁP ÁN

Sinh vật nào ăn san hô

Cá ngựa

Sao biển gai


Cá sù mì

Cá mập



CÂU 6

Hình thức sinh sản của san hô là?



Vô tính

Hữu tính

Vô tính và hữu tính

CÂU 6 – ĐÁP ÁN

Hình thức sinh sản của san hô là?

Vô tính


Hữu tính

Vô tính và hữu tính



CÂU 7

Ở Việt Nam có khoảng bao nhiêu loài san hô?



1000

400

100

CÂU 7 – ĐÁP ÁN

Ở Việt Nam có khoảng bao nhiêu loài san hô?

1000

400

100



CÂU 8

Những hiện tượng/hoạt động nào sau đây có thể phá hủy các rạn san hô?



Sử dụng mìn và hóa chất để đánh bắt thủy sản

Lượng trầm tích đổ xuống biển lớn do các hoạt động xây dựng trên bờ

Hiện tượng nước biển ấm lên

Tất cả các đáp án trên

CÂU 8 – ĐÁP ÁN

Những hiện tượng/hoạt động nào sau đây có thể phá hủy các rạn san hô?

Sử dụng mìn và hóa chất để đánh bắt thủy sản

Lượng trầm tích đổ xuống biển lớn do các hoạt động xây dựng trên bờ

Hiện tượng nước biển ấm lên

Tất cả các đáp án trên

